

ПЕРВОЕ ВЫСШЕЕ ТЕХНИЧЕСКОЕ УЧЕБНОЕ ЗАВЕДЕНИЕ РОССИИ



**МИНИСТЕРСТВО НАУКИ И ВЫСШЕГО ОБРАЗОВАНИЯ РОССИЙСКОЙ ФЕДЕРАЦИИ
федеральное государственное бюджетное образовательное учреждение
высшего образования
САНКТ-ПЕТЕРБУРГСКИЙ ГОРНЫЙ УНИВЕРСИТЕТ**

СОГЛАСОВАНО

УТВЕРЖДАЮ

**Руководитель ОПОП ВО
профессор В.А. Шпенст**

**Проректор по образовательной
деятельности
Д.Г. Петраков**

**РАБОЧАЯ ПРОГРАММА ДИСЦИПЛИНЫ
НАЧЕРТАТЕЛЬНАЯ ГЕОМЕТРИЯ И ИНЖЕНЕРНАЯ ГРАФИКА**

| | |
|-------------------------------------|---|
| Уровень высшего образования: | Бакалавриат |
| Направление подготовки: | 13.03.02 Электроэнергетика и электротехника |
| Направленность (профиль): | Электропривод и автоматика |
| Квалификация выпускника: | бакалавр |
| Форма обучения: | очная |
| Составитель: | доцент Э.Х. Муратбакеев |

Санкт-Петербург

Рабочая программа дисциплины «Начертательная геометрия и инженерная графика» разработана:

- в соответствии с требованиями ФГОС ВО – бакалавриат по направлению подготовки «13.03.02 Электроэнергетика и электротехника», утвержденного приказом Минобрнауки России № 144 от 28.02.2018.;

- на основании учебного плана бакалавриата по направлению подготовки «13.03.02 Электроэнергетика и электротехника» направленность (профиль) «Электропривод и автоматика».

Составитель _____ к.т.н., доцент Э.Х. Муратбакеев

Рабочая программа рассмотрена и одобрена на заседании кафедры Начертательной геометрии и графики от 25.01.2021 г., протокол № 6.

Заведующий кафедрой _____ к.т.н., доц. С.А. Игнатъев

Рабочая программа согласована:

Начальник отдела лицензирования, аккредитации и контроля качества образования _____ Ю.А. Дубровская

Начальник отдела методического обеспечения учебного процесса _____ А.Ю. Романчиков

1. ЦЕЛИ И ЗАДАЧИ ДИСЦИПЛИНЫ

Цель дисциплины: формирование у студентов знаний построения чертежа, умений читать и составлять графическую и текстовую конструкторскую документацию в соответствии с требованиями стандартов.

Основные задачи дисциплины:

- изучение основных правил (методов) построения и чтения чертежей; способов решения метрических и позиционных задач; правил оформления конструкторской документации в соответствии со стандартами ЕСКД;
- овладение навыками снятия эскизов, изображения технических изделий, оформления чертежей с использованием графических инструментов;
- формирование представлений об образовании изображений (проекций); навыков определения геометрических форм деталей по их изображениям.

2. МЕСТО ДИСЦИПЛИНЫ В СТРУКТУРЕ ОПОП ВО

Дисциплина «Начертательная геометрия и инженерная графика» относится к обязательной части Блока 1 «Дисциплины (модули)» основной профессиональной образовательной программы по направлению подготовки «13.03.02 Электроэнергетика и электротехника» направленность (профиль) «Электропривод и автоматика» и изучается в первом и втором семестрах.

Дисциплина «Начертательная геометрия и инженерная графика» является основополагающей для изучения следующих дисциплин: «Проектирование систем автоматики», «Теоретическая механика», «Техническая механика», «Проектирование систем электропривода», «Проектирование систем электроснабжения»

Особенностью дисциплины является то, что она является фундаментальной в подготовке дипломированного специалиста широкого профиля. Это одна из основных дисциплин общеинженерного цикла.

3. ПЛАНИРУЕМЫЕ РЕЗУЛЬТАТЫ ОБУЧЕНИЯ ПО ДИСЦИПЛИНЕ, СООТНЕСЕННЫЕ С ПЛАНИРУЕМЫМИ РЕЗУЛЬТАТАМИ ОСВОЕНИЯ ОБРАЗОВАТЕЛЬНОЙ ПРОГРАММЫ

Процесс изучения дисциплины «Начертательная геометрия и инженерная графика» направлен на формирование следующих компетенций:

| Формируемые компетенции по ФГОС | | Код и наименование индикатора достижения компетенции |
|---|-----------------|--|
| Содержание компетенции | Код компетенции | |
| Способен осуществлять поиск, обработку и анализ информации из различных источников и представлять ее в требуемом формате с использованием информационных, компьютерных и сетевых технологий | ОПК-1 | ОПК-1.3 Демонстрирует знание требований к оформлению документации (ЕСКД, ЕСПД, ЕСТД) и умение выполнять чертежи простых объектов |

4. СТРУКТУРА И СОДЕРЖАНИЕ ДИСЦИПЛИНЫ

4.1. Объем дисциплины и виды учебной работы

Общая трудоемкость дисциплины «Начертательная геометрия и инженерная графика» составляет 6 зачетных единиц, 216 ак. часов.

| Вид учебной работы | Всего ак. часов | Ак. часы по семестрам | |
|---|------------------------------------|-----------------------|-------------|
| | | 1 | 2 |
| Аудиторные занятия, в том числе: | 87 | 51 | 36 |
| Лекции | 17 | 17 | - |
| Практические занятия (ПЗ) | 70 | 34 | 36 |
| Лабораторные работы (ЛР) | - | - | - |
| Самостоятельная работа студентов (СРС), в том числе | 93 | 30 | 63 |
| Выполнение курсовой работы (проекта) | 36 | - | 36 |
| Подготовка к семинарским занятиям | - | - | - |
| Подготовка к практическим занятиям | 57 | 30 | 27 |
| Подготовка к лабораторным занятиям | - | - | - |
| Вид промежуточной аттестации: экзамен (Э), зачет (З), дифф. зачет (Д), курсовая работа (Р) | 36 (Э) | 36 (Э) | З, Р |
| Общая трудоемкость дисциплины | ак. час. 216 зач. ед. 6 | 117 | 99 |

4.2. Содержание дисциплины

Учебным планом предусмотрены: лекции, практические занятия и самостоятельная работа.

4.2.1. Разделы дисциплины и виды занятий

| Наименование разделов | Виды занятий | | | | |
|--|-----------------|-----------|----------------------|----------------------|--|
| | Всего ак. часов | Лекции | Практические занятия | Лабораторные занятия | Самостоятельная работа студента, в том числе курсовая работа |
| Раздел 1. Начертательная геометрия. | 81 | 17 | 34 | - | 30 |
| Раздел 2. Инженерная графика: основы машиностроительного черчения. | 31 | - | 18 | - | 13 |
| Раздел 3. Эскизы и рабочие чертежи деталей. Аксонометрические проекции деталей. Общие правила выполнения схем. | 68 | - | 18 | - | 50 |
| Итого: | 180 | 17 | 70 | - | 93 |
| Подготовка к экзамену | 36 | | | | |
| Всего: | 216 | | | | |

4.2.2. Содержание разделов дисциплины

| № п/п | Наименование раздела дисциплины | Содержание лекционных занятий | Трудоемкость в ак. часах |
|----------------------|---------------------------------|--|--------------------------|
| 1 семестр | | | |
| 1 | Раздел 1 | Образование проекций геометрических форм при различных методах проецирования. Прямоугольное проецирование как основной метод проецирования при получении изображений геометрических элементов на плоском чертеже. Построение следов прямых и плоскостей. Основные свойства прямых параллельных плоскости и параллельных плоскостей. Определения прямой перпендикулярной плоскости и взаимно перпендикулярных плоскостей. Свойства линий частного положения плоскости. Расположение геометрических элементов в пространстве относительно плоскостей проекций. Взаимное расположение геометрических элементов. | 17 |
| Итого по 1 семестру: | | | 17 |
| 2 семестр | | | |
| 2 | Раздел 2 | Не предусмотрены | - |
| 3 | Раздел 3 | Не предусмотрены | - |
| Итого по 2 семестру: | | | 0 |
| Итого: | | | 17 |

4.2.3. Практические занятия

| № п/п | № раздела дисциплины | Тематика практических занятий | Трудоемкость в ак. часах |
|----------------------|----------------------|---|--------------------------|
| 1 | Раздел 1 | Проецирование точки. Проецирование прямой. Нахождение натуральной величины отрезка. Проецирование плоскости. Взаимное положение прямой и плоскости. Построение линии пересечения двух плоскостей. Построение плоскости, параллельной данной плоскости. Построение плоскости, перпендикулярной данной плоскости. Построение линии пересечения двух плоских фигур. Определение расстояния между геометрическими элементами. | 34 |
| Итого по 1 семестру: | | | 34 |
| 2 | Раздел 2 | Основные положения ЕСКД. Условное изображение резьбы. Виды, разрезы, сечения. Аксонометрические проекции. | 18 |
| 3 | Раздел 3 | Выполнение с натуры эскизов деталей, их обмер мерительным инструментом и простановка размеров. Классификация схем. Общие правила оформления схем. | 18 |
| Итого по 2 семестру: | | | 36 |
| Итого: | | | 70 |

4.2.4. Лабораторные работы

Лабораторные работы не предусмотрены.

4.2.5. Курсовые работы (проекты)

| № п/п | Тематика курсовых работ (проектов) |
|-------|---|
| 1 | Электроснабжение подземных горных выработок |

5. ОБРАЗОВАТЕЛЬНЫЕ ТЕХНОЛОГИИ

В ходе обучения применяются:

Лекции, которые являются одним из важнейших видов учебных занятий и составляют основу теоретической подготовки обучающихся. Цели лекционных занятий:

-дать систематизированные научные знания по дисциплине, акцентировать внимание на наиболее сложных вопросах дисциплины;

-стимулировать активную познавательную деятельность обучающихся, способствовать формированию их творческого мышления.

Практические занятия. Цели практических занятий:

-совершенствовать умения и навыки решения практических задач.

Главным содержанием этого вида учебных занятий является работа каждого обучающегося по овладению практическими умениями и навыками профессиональной деятельности.

Консультации (текущая консультация, накануне экзамена, зачета) является одной из форм руководства учебной работой обучающихся и оказания им помощи в самостоятельном изучении материала дисциплины, в ликвидации имеющихся пробелов в знаниях, задолженностей по текущим занятиям, в подготовке письменных работ (проектов).

Текущие консультации проводятся преподавателем, ведущим занятия в учебной группе, научным руководителем и носят как индивидуальный, так и групповой характер.

Самостоятельная работа обучающихся направлена на углубление и закрепление знаний, полученных на лекциях и других занятиях, выработку навыков самостоятельного активного приобретения новых, дополнительных знаний, подготовку к предстоящим учебным занятиям и промежуточному контролю.

Курсовая работа позволяет обучающимся развить навыки научного поиска.

6. ОЦЕНОЧНЫЕ СРЕДСТВА ДЛЯ ТЕКУЩЕГО КОНТРОЛЯ УСПЕВАЕМОСТИ, ПРОМЕЖУТОЧНОЙ АТТЕСТАЦИИ ПО ИТОГАМ ОСВОЕНИЯ ДИСЦИПЛИНЫ

6.1. Оценочные средства для самостоятельной работы и текущего контроля

успеваемости

Раздел 1.

1. Построить точку, принадлежащую II октанту.
2. Построить точку, лежащую в π_1 .
3. Построить точку, симметричную точке в п.1, относительно оси x .
4. Построить 3 проекции точки $A(2;4;-3)$.
5. Построить точку, лежащую на оси y .
6. Построить горизонталь
7. Найти точку, удаленную от плоскости общего положения на 30 мм.
8. Построить плоский четырехугольник.
9. Построить все плоскости уровня.
10. Как задать осевую плоскость?

Раздел 2.

1. Что такое ЕСКД?
2. Дайте определение вида.
3. Что такое масштаб?
4. Как условно изображают резьбу?
5. Какие бывают разрезы по количеству секущих плоскостей?

Раздел 3.

1. Что такое эскиз?

2. Какая последовательность выполнения эскиза?
3. В каком масштабе выполняют эскиз?
4. Какие мерительные инструменты используют для обмера деталей?
5. Какую бумагу предпочтительнее использовать для выполнения эскиза детали?
6. Перечислите виды схем.
7. Перечислите типы схем.
8. В каких размерах изображают условные графические обозначения?
9. В каком масштабе выполняют схемы?
10. Какое минимальное расстояние между линиями связи?

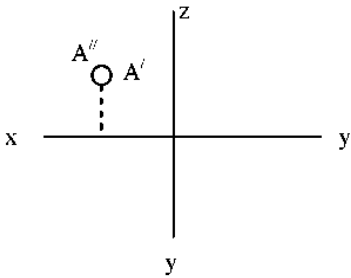
6.2. Оценочные средства проведения промежуточной аттестации (экзамена, зачета)

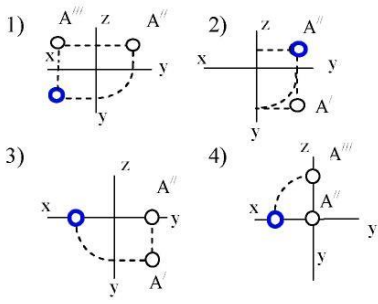
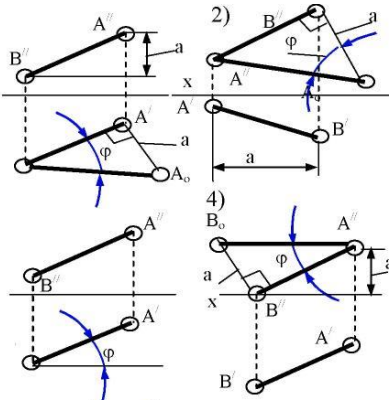
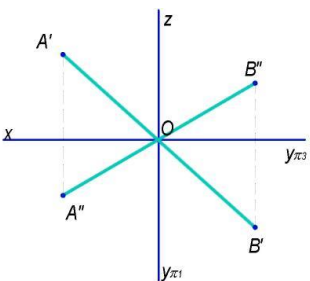
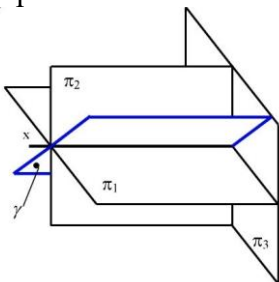
6.2.1. Примерный перечень вопросов/заданий к экзамену, зачету по Начертательной геометрии и инженерной графике:

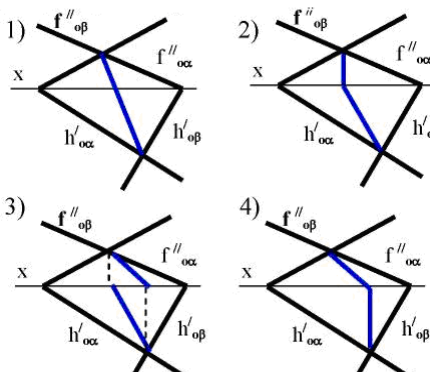
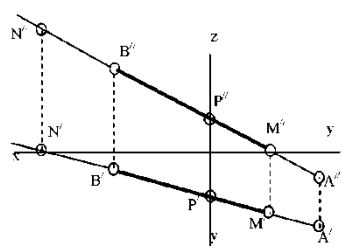
1. Методы проецирования.
2. Основные свойства параллельного проецирования.
3. Октанты. Расположение точек в октантах.
4. Проекции отрезка прямой линии.
5. Прямые частного положения.
6. Определение натуральной величины отрезка прямой общего положения методом прямоугольного треугольника.
7. Принадлежность точек и прямых плоскостям общего положения.
8. Следы прямой.
9. Взаимное положение двух прямых.
10. Конкурирующие точки.
11. Плоскости общего и частного положения.
12. Взаимное положение прямой и плоскости.
13. Прямые частного положения в плоскости.
14. Взаимное положение плоскостей.
15. Определение взаимной видимости геометрических элементов.
16. Общие правила выполнения чертежей.
17. Правила выполнения сопряжений.
18. Виды и их классификация.
19. Классификация разрезов.
20. Правила нанесения размеров.
21. Изображение и обозначение резьбы на чертежах.
22. Понятие эскиза.
23. Правила оформления электрических схем.

6.2.2. Примерные тестовые задания к экзамену

Вариант 1

| № | Вопрос | Варианты ответа |
|---|---|--|
| 1 | <p>В каком октанте расположена точка А?</p>  | <ol style="list-style-type: none"> 1. в 1-м октанте; 2. в 2-м октанте; 3. в 3-м октанте; 4. в 4-м октанте. |
| 2 | <p>Построить третью проекцию точки А (укажите верный ответ):</p> | <ol style="list-style-type: none"> 1. 1-й вариант; 2. 2-й вариант; |

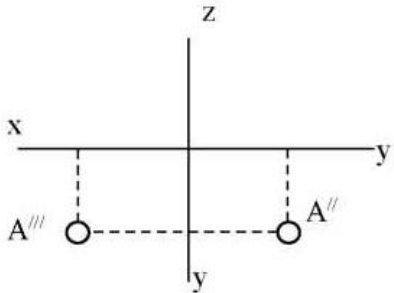
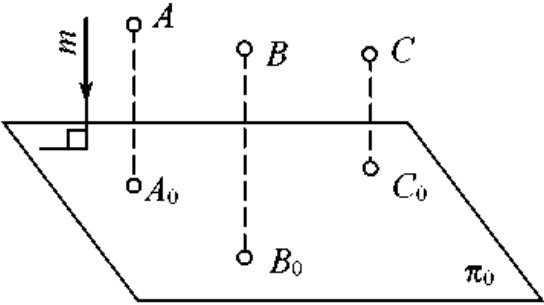
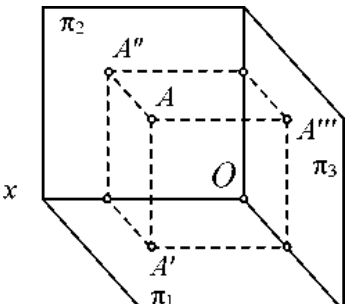
| № | Вопрос | Варианты ответа |
|---|---|---|
| |  | <p>3. 3-й вариант; 4. 4-й вариант.</p> |
| 3 | <p>На каком эюре правильно указан угол наклона прямой АВ к горизонтальной плоскости проекций π_1?</p>  | <p>1. 1-й эюр; 2. 2-й эюр; 3. 3-й эюр; 4. 4-й эюр;</p> |
| 4 | <p>Какая прямая изображена на эюре?</p>  | <p>1. горизонтальная; 2. фронтальная; 3. профильная; 4. общего положения.</p> |
| 5 | <p>Является ли плоскость γ плоскостью общего положения при условии, что она проходит через ось OX?</p>  | <p>1. да, является; 2. является плоскостью частного положения; 3. да, является только в пределах I октанта; 4. да, является только в пределах III</p> |
| 6 | <p>Какие признаки соответствуют плоскости частного положения: 1 - не параллельна ни одной из ко-</p> | <p>1. признаки по п.1; 2. признаки по п.2; 3. признаки по п.п.3;</p> |

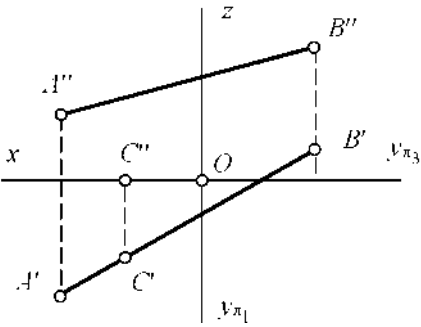
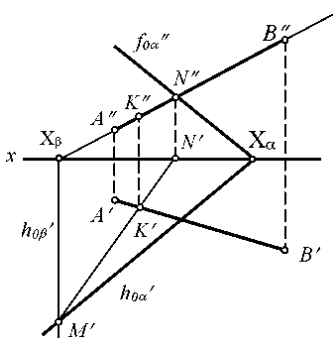
| № | Вопрос | Варианты ответа |
|----|---|---|
| | <p>ординатных осей;</p> <p>2 - пересекает ось OX под углом 45^0 и перпендикулярна фронтальной плоскости проекций π_2;</p> <p>3 - расположена под острым углом ко всем плоскостям проекций;</p> <p>4 - параллельна одной из плоскостей проекций</p> | 4. признаки по п.п.2, 4. |
| 7 | <p>Какой вариант из предложенных соответствует правильному построению проекций линии пересечения плоскостей α и β?</p>  | <p>1. 1-й вариант;</p> <p>2. 2-й вариант;</p> <p>3. 3-й вариант;</p> <p>4. 4-й вариант.</p> |
| 8 | <p>Через какие октанты проходит прямая AB?</p>  | <p>1. прямая проходит через I, II, III и VII октанты;</p> <p>2. прямая проходит через II, I, V и VIII октанты;</p> <p>3. прямая проходит через III, IV, VIII и V октанты;</p> <p>4. прямая проходит через II, VI, VII и VIII октанты.</p> |
| 9 | <p>Где пересекаются горизонтальный и фронтальный след плоскости общего положения?</p> | <p>1. на оси OX;</p> <p>2. на оси OY;</p> <p>3. на оси OZ;</p> <p>4. в точке O.</p> |
| 10 | <p>В каких единицах измерения указываются линейные и угловые размеры на чертежах?</p> | <p>1. в сотых долях метра и градусах;</p> <p>2. в микронах и секундах;</p> <p>3. в дюймах, градусах и минутах;</p> <p>4. в миллиметрах, градусах минутах и секундах.</p> |
| 11 | <p>Толщина линии шрифта зависит от:</p> | <p>1. от толщины сплошной основной линии S;</p> <p>2. от высоты строчных букв шрифта;</p> <p>3. от типа и высоты шрифта;</p> <p>4. от угла наклона шрифта.</p> |
| 12 | <p>Для какой цели применяются разрезы?</p> | <p>1. показать внутренние очертания и форму изображаемых предметов;</p> <p>2. показать внешнюю конфигурацию и форму изображаемых предметов;</p> <p>3. применяются при выполнении черте-</p> |

| № | Вопрос | Варианты ответа |
|----|---|--|
| | | жей любых деталей; 4. применяются только по желанию конструктора. |
| 13 | Что называется местным видом? | 1. изображение только ограниченного места детали; 2. изображение детали на дополнительную плоскость; 3. изображение детали на вертикальную плоскость; 4. вид справа детали. |
| 14 | Разрез получается при мысленном рассечении предмета секущей плоскостью. При этом на разрезе показывается то, что: | 1. получится только в секущей плоскости; 2. находится перед секущей плоскостью; 3. находится за секущей плоскостью; 4. находится в секущей плоскости, и что расположено за ней. |
| 15 | В каком случае можно соединять половину вида с половиной соответствующего разреза? | 1. всегда можно; 2. никогда нельзя; 3. если деталь несимметрична; 4. если вид и разрез являются симметричными фигурами. |
| 16 | Как штрихуются в разрезе соприкасающиеся детали? | 1. одинаково; 2. с разной толщиной линий штриховки; 3. одна деталь не штрихуется, а другая штрихуется; 4. с разным наклоном штриховых линий. |
| 17 | Сколько видов должно содержать изображение какой-либо конкретной детали? | 1. один; 2. три; 3. минимальное, но достаточное для однозначного уяснения конфигурации; 4. максимальное число видов. |
| 18 | Расшифруйте условное обозначение резьбы M20*0.75LH. | 1. резьба метрическая, номинальный диаметр 20мм, шаг 0,75мм, левая; 2. резьба упорная, номинальный диаметр 20мм, шаг 0,75, правая; 3. резьба метрическая, номинальный диаметр 0,75мм, шаг 20мм, правая; 4. резьба метрическая, номинальный диаметр 0,75мм, шаг 20мм, левая. |
| 19 | Размер шрифта определяется следующими элементами: | 1. высотой строчных букв; 2. высотой прописных букв в миллиметрах; 3. толщиной линии шрифта; 4. расстоянием между буквами. |
| 20 | Расшифруйте вид и тип схемы: ЭЗ. | 1. электрическая расположения; 2. газовая соединения; 3. кинематическая структурная; 4. электрическая принципиальная. |

Вариант 2

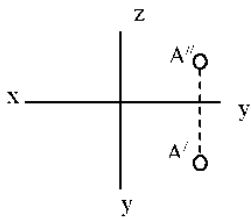
| № | Вопрос | Варианты ответа |
|---|--------------------------------------|-------------------|
| 1 | В каком октанте расположена точка А? | 1. в 1-м октанте; |

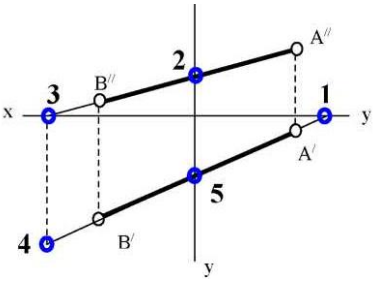
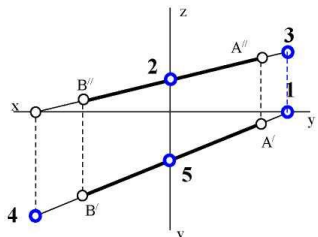
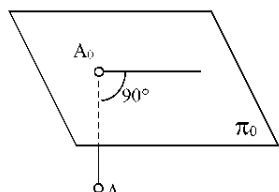
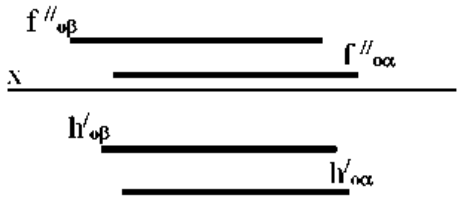
| № | Вопрос | Варианты ответа |
|---|---|--|
| |  | <ul style="list-style-type: none"> 2. в 7-м октанте; 3. в 3-м октанте; 4. в 4-м октанте. |
| 2 | Чертеж, образуемый в результате совмещения трех взаимно перпендикулярных плоскостей проекций с плоскостью чертежа, называется | <ul style="list-style-type: none"> 1. проекционным чертежом; 2. аксонометрией; 3. позиционным чертежом; 4. эюрором. |
| 3 | Метод проецирования, изображенный на рисунке, называется  | <ul style="list-style-type: none"> 1. центральным; 2. параллельным косоугольным; 3. параллельным прямоугольным; 4. перпендикулярным. |
| 4 | Линия проекционной связи связывает | <ul style="list-style-type: none"> 1. проекции точки и начало координат; 2. оси проекций; 3. проекции точки и ее геометрический образ в пространстве; 4. любые две проекции, изображенные на эюре. |
| 5 | Точка A' называется  | <ul style="list-style-type: none"> 1. центральной проекцией точки A; 2. профильной проекцией точки A; 3. горизонтальной проекцией точки A; 4. фронтальной проекцией точки A. |
| 6 | Прямой частного положения называется прямая | <ul style="list-style-type: none"> 1. пересекающая начало координат; 2. пересекающая все три плоскости проекций; 3. параллельная одной или двум плоскостям проекций; 4. проецирующаяся на все три плоскости проекций в натуральную величину; |
| 7 | Если прямая проецируется на одну из проекций в точку то эта прямая | <ul style="list-style-type: none"> 1. общего положения плоскостей; 2. проходит через начало координат; 3. параллельна этой плоскости проекций; 4. перпендикулярна этой плоскости про- |

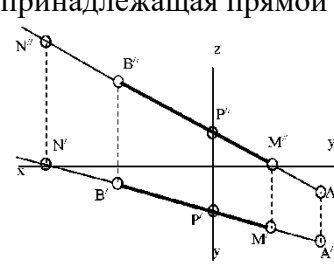
| № | Вопрос | Варианты ответа |
|----|--|--|
| 8 | Точка C  | <p>екций.</p> <ol style="list-style-type: none"> 1. принадлежит прямой AB; 2. лежит в плоскости π_3; 3. не принадлежит прямой AB; 4. лежит на оси x. |
| 9 | Плоскость общего положения | <ol style="list-style-type: none"> 1. перпендикулярна одной плоскости проекций; 2. пересекает все три плоскости проекций; 3. перпендикулярна двум плоскостям проекций; 4. проходит через начало координат. |
| 10 | Прямая линия, получаемая при взаимном пересечении двух плоскостей, определяется | <ol style="list-style-type: none"> 1. следами прямых, принадлежащих этим плоскостям; 2. двумя точками, получаемых при пересечении с плоскостями проекций; 3. двумя точками, из которых каждая принадлежит обеим плоскостям; 4. следами этих плоскостей. |
| 11 | Точка K - это точка пересечения прямой AB с плоскостью α . Для построения этой точки  | <ol style="list-style-type: none"> 1. найдены точки пересечения M и N проекций прямой AB с плоскостью α; 2. найдены следы прямой AB - точки M и N - и соединены одноименные проекции следов; 3. через прямую AB проведена вспомогательная плоскость P и найдена линия пересечения плоскостей α и P; 4. построена горизонталь MN и найдена точка ее пересечения с прямой AB. |
| 12 | Две плоскости являются взаимно перпендикулярными, если | <ol style="list-style-type: none"> 1. одна из плоскостей проходит через прямую, перпендикулярную другой плоскости; 2. они содержат взаимно перпендикулярные прямые; 3. их следы также взаимно перпендикулярны; 4. хотя бы одна пара одноименных следов плоскостей перпендикулярна друг другу. |
| 13 | Какой линией ограничивают местный разрез? | <ol style="list-style-type: none"> 1. основной тонкой; 2. штрихпунктирной; 3. тонкой волнистой; 4. любой. |

| № | Вопрос | Варианты ответа |
|----|--|--|
| 14 | В каком масштабе выполняется эскиз детали? | 1. в глазомерном масштабе; 2. обычно в масштабе 1:1; 3. обычно в масштабе увеличения; 4. всегда в масштабе уменьшения. |
| 15 | Профильный разрез образуется, если секущая плоскость: | 1. параллельна горизонтальной плоскости проекций; 2. параллельна фронтальной плоскости проекций; 3. параллельна профильной плоскости проекций; 4. расположена под углом менее 90^0 к горизонтальной плоскости проекций. |
| 16 | Какие буквы используют для обозначения сечения? | 1. буквы латинского алфавита; 2. любые буквы; 3. арабские цифры; 4. буквы русского алфавита А, Б, В, Г, Д и т.д. |
| 17 | Чем отличается обозначение метрической резьбы с крупным шагом от обозначения с мелким шагом? | 1. не отличается ничем; 2. к обозначению резьбы добавляется величина крупного шага; 3. к обозначению резьбы добавляется величина мелкого шага; 4. к обозначению резьбы добавляется приписка LH. |
| 18 | По отношению к толщине основной линии толщина разомкнутой линии составляет: | 1. (0,5 1,0) S; 2. (1,0 2,0) S; 3. (1,0 2,5) S; 4. (0,8 1,5) S. |
| 19 | Каковы названия основных плоскостей проекций? | 1. фронтальная, горизонтальная, профильная; 2. центральная, нижняя, боковая; 3. передняя, левая, верхняя; 4. передняя, левая боковая, верхняя. |
| 20 | Какой линией выполняют условные графические обозначения на схеме? | 1. Сплошной толстой – основной; 2. Сплошной тонкой; 3. Разомкнутой; 4. Сплошной волнистой. |

Вариант 3

| № | Вопрос | Варианты ответа |
|---|---|--|
| 1 | В каком октанте расположена точка А?  | 1. в 1-м октанте; 2. в 5-м октанте; 3. в 3-м октанте; 4. в 4-м октанте. |
| 2 | Построить точку М' - горизонтальный | 1. точка 1; |

| № | Вопрос | Варианты ответа |
|---|---|--|
| | <p>след</p>  | <p>2. точка 2; 3. точка 3; 4. точка 4.</p> |
| 3 | <p>Какая точка соответствует фронтальному следу прямой АВ?</p>  | <p>1. точка 4; 2. точка 3; 3. точка 2; 4. точка 5.</p> |
| 4 | <p>Какое положение относительно горизонтальной плоскости проекций π_1 занимает горизонтально - проецирующая прямая?</p> | <p>1. параллельна плоскости π_1; 2. перпендикулярна плоскости π_1; 3. расположена под углом 45° к плоскости π_1; 4. расположена под любым углом к плоскости π_1.</p> |
| 5 | <p>Какое минимальное количество следов плоскости на чертеже определяют ее положение в пространстве?</p> | <p>1. любой один из следов; 2. горизонтальный след; 3. фронтальный след; 4. любые два следа.</p> |
| 6 | <p>Какой способ проецирования применён при проецировании точки А на плоскость π_0?</p>  | <p>1. косоугольный; 2. параллельный; 3. перспективный; 4. ортогональный.</p> |
| 7 | <p>Какое положение плоскостей α и β в пространстве?</p>  | <p>1. профильно - проецирующие плоскости; 2. общего положения; 3. горизонтальные плоскости; 4. фронтальные плоскости.</p> |
| 8 | <p>Какое положение в пространстве занимает отрезок АВ, если горизонтальная проекция отрезка соответствует его истинной величине?</p> | <p>1. параллелен плоскости π_1; 2. параллелен плоскости π_2; 3. параллелен плоскости π_3; 4. перпендикулярен плоскости π_1.</p> |

| № | Вопрос | Варианты ответа |
|----|--|---|
| 9 | <p>В каком октанте расположена точка А, принадлежащая прямой АВ?</p>  | <ol style="list-style-type: none"> 1. в I-м октанте; 2. во II-м октанте; 3. в V-м октанте; 4. в V III-м октанте. |
| 10 | Где пересекаются горизонтальный и фронтальный след плоскости общего положения? | <ol style="list-style-type: none"> 1. На оси ОХ 2. На оси ОУ 3. На оси ОZ 4. В точке 0 |
| 11 | Каковы названия основных плоскостей проекций? | <ol style="list-style-type: none"> 1. фронтальная, горизонтальная, профильная; 2. центральная, нижняя, боковая; 3. передняя, левая, верхняя; 4. передняя, левая боковая, верхняя. |
| 12 | Какого масштаба нет в стандартах ЕСКД? | <ol style="list-style-type: none"> 1. 2.5:1; 2. 3: 1; 3. 5:1; 4. 1:1. |
| 13 | Где проставляется размер? | <ol style="list-style-type: none"> 1. над размерной линией; 2. под размерной линией; 3. на размерной линии; 4. произвольно. |
| 14 | Для чего предназначена тонкая сплошная линия? | <ol style="list-style-type: none"> 1. для размерных и выносных линий; 2. для центровых линий; 3. линии симметрии; 4. для линии разреза. |
| 15 | На основе какого формата получают другие основные форматы? | <ol style="list-style-type: none"> 1. А5; 2. А4; 3. А3; 4. А0. |
| 16 | Назначение штрихпунктирной линии: | <ol style="list-style-type: none"> 1. линия видимого контура; 2. осевая; 3. линия сгиба; 4. выносная. |
| 17 | Из примеров, приведенных ниже, укажите тот, в котором приведено правильное обозначение метрической резьбы с крупным шагом: | <ol style="list-style-type: none"> 1. S 32x10; 2. M 20; 3. Ø 20x1,5; 4. Tr 40x6. |
| 18 | Контур вынесенного сечения выполняется: | <ol style="list-style-type: none"> 1. сплошной тонкой линией; 2. сплошной основной линией; 3. штриховой линией; 4. любой линией. |
| 19 | Для чего предназначен эскиз? | <ol style="list-style-type: none"> 1. для изготовления детали; 2. для определения возможности транспортировки детали; 3. для определения способов крепления детали в конструкции; |

| № | Вопрос | Варианты ответа |
|----|--|---|
| | | 4. для выявления внешней отделки детали. |
| 20 | Какой масштаб используют при изображении схем? | 1. 1:1; 2. 2:1; 3. без масштаба; 4. 1:2. |

6.3. Описание показателей и критериев контроля успеваемости, описание шкал оценивания

6.3.1. Критерии оценок промежуточной аттестации (экзамен)

| Оценка | | | |
|---|---|---|--|
| «2» (неудовлетворительно) | Пороговый уровень освоения «3» (удовлетворительно) | Углубленный уровень освоения «4» (хорошо) | Продвинутый уровень освоения «5» (отлично) |
| Студент не знает значительной части материала, допускает существенные ошибки в ответах на вопросы | Студент поверхностно знает материал основных разделов и тем учебной дисциплины, допускает неточности в ответе на вопрос | Студент хорошо знает материал, грамотно и по существу излагает его, допуская некоторые неточности в ответе на вопрос. | Студент в полном объеме знает материал, грамотно и по существу излагает его, не допуская существенных неточностей в ответе на вопрос |
| Не умеет находить решения большинства предусмотренных программой обучения заданий | Иногда находит решения, предусмотренные программой обучения заданий | Уверенно находит решения, предусмотренные программой обучения заданий | Безошибочно находит решения, предусмотренные программой обучения заданий |
| Большинство предусмотренных программой обучения заданий не выполнено | Предусмотренные программой обучения задания выполнены удовлетворительно | Предусмотренные программой обучения задания успешно выполнены | Предусмотренные программой обучения задания успешно выполнены |

Примерная шкала оценивания знаний в тестовой форме:

| Количество правильных ответов, % | Оценка |
|----------------------------------|---------------------|
| 0-49 | Неудовлетворительно |
| 50-65 | Удовлетворительно |
| 66-85 | Хорошо |
| 86-100 | Отлично |

6.3.2. Критерии оценок промежуточной аттестации (зачет)

| Оценка | Описание |
|-------------------|---|
| Зачтено | Посещение более 50 % лекционных и практических занятий; студент твердо знает материал, грамотно и по существу излагает его, не допуская существенных неточностей в ответе на вопрос; все предусмотренные программой обучения задания выполнены, качество их выполнения достаточно высокое; в течение семестра выполнил творческую работу. |
| Не зачтено | Посещение менее 50 % лекционных и практических занятий; студент не знает значительной части материала, допускает существенные ошибки в ответах на вопросы; большинство предусмотренных программой обучения заданий не выполнено, качество их выполнения оценено числом баллов, близким к минимальному. |

Примерная шкала оценивания знаний в тестовой форме:

| Количество правильных ответов, % | Оценка |
|----------------------------------|------------|
| 0-49 | Не зачтено |
| 50-65 | Зачтено |
| 66-85 | Зачтено |
| 86-100 | Зачтено |

6.3.3. Описание шкалы и критериев оценивания для проведения промежуточной аттестации в форме защиты курсовой работы.

Студент выполняет курсовую работу в соответствии с графиком, принятым на заседании кафедры. Оценка может быть снижена за несоблюдение установленного кафедрой графика.

| Оценка | | | |
|---|--|--|--|
| «2» (неудовлетворительно) | Пороговый уровень освоения | Углубленный уровень освоения | Продвинутый уровень освоения |
| | «3» (удовлетворительно) | «4» (хорошо) | «5» (отлично) |
| Студент не выполнил курсовую работу в соответствии с заданием. Не владеет теоретическими знаниями по изучаемой дисциплине. Необходимые практические компетенции не сформированы | Студент выполнил курсовую работу с существенными ошибками. При защите курсового проекта демонстрирует слабую теоретическую подготовку. При решении задач, предусмотренных программой учебной дисциплины, допускает неточности, существенные ошибки | Студент выполнил курсовую работу с некоторыми незначительными ошибками и неточностями. При защите курсового проекта демонстрирует хорошую теоретическую подготовку. Хорошо справляется с решением задач, предусмотренных программой учебной дисциплины | Студент выполнил курсовую работу полностью в соответствии с заданием. При защите курсового проекта демонстрирует высокую теоретическую подготовку. Успешно справляется с решением задач, предусмотренных программой учебной дисциплины |

7. УЧЕБНО-МЕТОДИЧЕСКОЕ И ИНФОРМАЦИОННОЕ ОБЕСПЕЧЕНИЕ ДИСЦИПЛИНЫ

7.1. Рекомендуемая литература

7.1.1. Основная литература

1. Волошин-Челпан, Э. К. Начертательная геометрия. Инженерная графика : учебник / Э. К. Волошин-Челпан. — Москва : Академический Проект, 2020. — 183 с. — ISBN 978-5-8291-3050-3. — Текст : электронный // Лань : электронно-библиотечная система. — URL: <https://e.lanbook.com/book/133219>.

7.1.2. Дополнительная литература

1. Бобин, Н. Е. Инженерная графика. Начертательная геометрия : учеб. пособие по решению контрол. задач / Н.Е.Бобин, П.Г.Талалай, Ю.А.Эйст ; С.-Петербург. гос. горн. ин-т им. Г.В.Плеханова (техн. ун-т). - Изд. 4-е, стер. - СПб.: СПГГИ, 2008. - 73 с. и предыдущие издания

http://irbis.spmi.ru/jirbis2/index.php?option=com_irbis&view=irbis&Itemid=108&task=set_static_req&bns_string=NWPIB,ELC,ZAPIS&req_irb=<.>I=%D0%92%2045490%2F%D0%91%2072%2D529382009<.>

2. Инженерная графика. Основы начертательной геометрии, черчения и машинной графики [Текст] : [учеб. пособие для горно-геол. специальностей] / [Н. Е. Бобин [и др.] ; С.-Петербург. гос. горн. ин-т им. Г. В. Плеханова. - Изд. 3-е, испр. - СПб. : [С.-Петербург. гос. гор. ин-т им. Г. В. Плеханова], 2009. - 94 с. и предыдущие издания

http://irbis.spmi.ru/jirbis2/index.php?option=com_irbis&view=irbis&Itemid=108&task=set_static_req&bns_string=NWPIB,ELC,ZAPIS&req_irb=<>I=%D0%92%2045621%2F%D0%98%2062%2D791151<>

7.1.3. Учебно-методическое обеспечение

1. Муратбаекеев Э.Х. Методические указания к самостоятельной работе для студентов направления подготовки 13.03.02 https://ior.spmi.ru/system/files/srs/srs_1544194519.pdf
2. Муратбаекеев Э.Х. Методические указания к выполнению курсовой работы для студентов направления подготовки 13.03.02 https://ior.spmi.ru/system/files/kr/kr_1541247631.pdf

7.2. Базы данных, электронно-библиотечные системы, информационно-справочные и поисковые системы

1. Европейская цифровая библиотека Europeana: <http://www.europeana.eu/portal>
2. КонсультантПлюс: справочно - поисковая система [Электронный ресурс]. - www.consultant.ru/.
3. Мировая цифровая библиотека: <http://wdl.org/ru>
4. Научная электронная библиотека «eLIBRARY»: <https://elibrary.ru/>.
5. Поисковые системы Yandex, Google, Rambler, Yahoo и др.
6. Система ГАРАНТ: электронный периодический справочник [Электронный ресурс] www.garant.ru/.
7. Электронно-библиотечная система издательского центра «Лань»: <https://e.lanbook.com/books>
8. Электронная библиотека Российской Государственной Библиотеки (РГБ): <http://elibrary.rsl.ru/>
9. Электронная библиотека учебников: <http://studentam.net>
10. Электронно-библиотечная система «ЭБС ЮРАЙТ» www.biblio-online.ru.
11. Электронно-библиотечная система <http://www.sciteclibrary.ru/>
12. Университетская библиотека online <http://biblioclub.ru>

8. МАТЕРИАЛЬНО-ТЕХНИЧЕСКОЕ ОБЕСПЕЧЕНИЕ ДИСЦИПЛИНЫ

8.1. Материально-техническое оснащение аудиторий:

Специализированные аудитории, используемые при проведении лекционных и практических занятий, оснащены мультимедийными проекторами и комплектом аппаратуры, позволяющей демонстрировать текстовые и графические материалы.

Лекционный курс читается с мультимедийным сопровождением – демонстрацией презентационного материала с помощью мультимедийного проектора.

Аудитории для практических занятий обеспечены комплектом демонстрационных стендовых материалов по темам курса.

8.1.1. Аудитории для проведения лекционных занятий

Аудитория для лекционных занятий – 48 посадочных мест.

Стол аудиторный - 24 шт., стол преподавательский - 1 шт., стул аудиторный - 48 шт., кресло преподавателя - 1 шт., переносная настольная трибуна - 1 шт., доска настенная белая магнитно-маркерная «Magnetoplan» - 1шт., плакат – 5 шт., доска меловая – 1 шт.

Перекатная мультимедийная установка (ноутбук Acer Aspire7720 (Intel(R) Core (TM)2 Duo CPU T7700 2.40GHz 2 ГБ); мышь проводная Genius Laser; проектор DLP Texas Instruments VLT-XD600LP; стойка передвижная металлическая многоярусная).

Microsoft Windows Pro 7 RUS, Microsoft Office Std 2007 RUS, Антивирусное программное обеспечение Kaspersky Endpoint Security, 7-zip (свободно распространяемое ПО), FoxitReader (свободно распространяемое ПО), SeaMonkey (свободно распространяемое ПО), Chromium (свободно распространяемое ПО), Java 8 RuntimeEnvironment (свободно распространяемое ПО), doPDF (свободно распространяемое ПО), GNU ImageManipulationProgram (свободно распространяемое ПО),

Inkscape (свободно распространяемое ПО), XnView (свободно распространяемое ПО), K-LiteCodecPack (свободно распространяемое ПО), FAR Manager(свободно распространяемое ПО).

8.1.2. Аудитории для проведения практических занятий

Чертежная аудитория – 48 посадочных мест.

Стол аудиторный - 24 шт., стол преподавательский - 1 шт., стул аудиторный - 48 шт., кресло преподавателя - 1 шт., переносная настольная трибуна - 1 шт., доска настенная белая магнитно-маркерная «Magnetoplan» - 1 шт., плакат – 5 шт., доска меловая – 1 шт.

Перекатная мультимедийная установка (ноутбук Acer Aspire7720 (Intel(R) Core (TM)2 Duo CPU T7700 2.40GHz 2 ГБ); мышь проводная Genius Laser; проектор DLP Texas Instruments VLT-XD600LP; стойка передвижная металлическая многоярусная).

Microsoft Windows Pro 7 RUS, Microsoft Office Std 2007 RUS, Антивирусное программное обеспечение Kaspersky Endpoint Security, 7-zip (свободно распространяемое ПО), FoxitReader (свободно распространяемое ПО), SeaMonkey (свободно распространяемое ПО), Chromium (свободно распространяемое ПО), Java 8 RuntimeEnvironment (свободно распространяемое ПО), doPDF (свободно распространяемое ПО), GNU ImageManipulationProgram (свободно распространяемое ПО), Inkscape (свободно распространяемое ПО), XnView (свободно распространяемое ПО), K-LiteCodecPack (свободно распространяемое ПО), FAR Manager(свободно распространяемое ПО).

Лаборатория «систем автоматизированного проектирования» - 16 посадочных мест.

Стол компьютерный для студентов – 5 шт., стол компьютерный для преподавателя - 1 шт., кресло - 17 шт., моноблок Lenovo M93Z Intel Q87 – 16 шт. (возможность доступа к сети «Интернет»), доска напольная мобильная белая магнитно-маркерная «Magnetoplan» - 1 шт., плакат – 4 шт.

Перекатная мультимедийная установка (ноутбук Acer Aspire7720 (Intel(R) Core (TM)2 Duo CPU T7700 2.40GHz 2 ГБ); мышь проводная Genius Laser; проектор DLP Texas Instruments VLT-XD600LP; стойка передвижная металлическая многоярусная). КОМПАС-3D V12 (обновлено до КОМПАС-3D V15 (50 мест)). Microsoft Windows 7 Professional; Microsoft Office 2007 Professional Plus; CorelDRAW Graphics Suite X5; Autodesk (product: Building Design Suite Ultimate 2016, product Key: 766H1) Kaspersky Endpoint Security; Microsoft Windows Pro 7 RUS, Microsoft Office Std 2007 RUS, Антивирусное программное обеспечение Kaspersky Endpoint Security, 7-zip (свободно распространяемое ПО); Foxit Reader (свободно распространяемое ПО); Foxit Reader (свободно распространяемое ПО); SeaMonkey (свободно распространяемое ПО); Chromium (свободно распространяемое ПО); Java Runtime Environment (свободно распространяемое ПО); doPDF (свободно распространяемое ПО); GNU Image Manipulation Program (свободно распространяемое ПО) Inkscape (свободно распространяемое ПО); XnView (свободно распространяемое ПО); K-Lite Codec Pack (свободно распространяемое ПО); FAR Manager (свободно распространяемое ПО).

Чертежная аудитория – 15 посадочных мест.

Стол аудиторный - 15 шт, стол преподавательский – 1 шт., стул аудиторный – 15 шт, кресло преподавателя - 2 шт., шкаф лабораторный – 2 шт., плакат – 3 шт., доска меловая – 2 шт.

Перекатная мультимедийная установка (ноутбук Acer Aspire7720 (Intel(R) Core (TM)2 Duo CPU T7700 2.40GHz 2 ГБ); мышь проводная Genius Laser; проектор DLP Texas Instruments VLT-XD600LP; стойка передвижная металлическая многоярусная).

Microsoft Windows Pro 7 RUS, Microsoft Office Std 2007 RUS, Антивирусное программное обеспечение Kaspersky Endpoint Security, 7-zip (свободно распространяемое ПО), FoxitReader (свободно распространяемое ПО), SeaMonkey (свободно распространяемое ПО), Chromium (свободно распространяемое ПО), Java 8 RuntimeEnvironment (свободно распространяемое ПО), doPDF (свободно распространяемое ПО), GNU ImageManipulationProgram (свободно распространяемое ПО), Inkscape (свободно распространяемое ПО), XnView (свободно распространяемое ПО), K-LiteCodecPack (свободно распространяемое ПО), FAR Manager(свободно распространяемое ПО).

8.2. Помещения для самостоятельной работы:

1. Оснащенность помещения для самостоятельной работы: 13 посадочных мест. Стул – 25 шт., стол – 2 шт., стол компьютерный – 13 шт., шкаф – 2 шт., доска аудиторная маркерная – 1 шт., АРМ учебное ПК (монитор + системный блок) – 14 шт. Доступ к сети «Интернет», в электронную информационно-образовательную среду Университета.

Перечень лицензионного программного обеспечения: Microsoft Windows 7 Professional; Microsoft Office 2010 Standard, Антивирусное программное обеспечение Kaspersky Endpoint Security.

2. Оснащенность: компьютерное кресло 7875 A2S – 35 шт., стол компьютерный – 11 шт., моноблок Lenovo 20 HD - 16 шт., доска настенная белая - 1 шт., монитор ЖК Philips - 1 шт., монитор HP L1530 15ft - 1 шт., сканер Epson Perf.3490 Photo - 2 шт., системный блок HP6000 – 2 шт.; стеллаж открытый - 18 шт., микрофон Д-880 с 071с.ч. - 2 шт., книжный шкаф - 15 шт., парта - 36 шт., стул - 40 шт.

Перечень лицензионного программного обеспечения:

- Автоматизированная информационно-библиотечная система (АИБС);
- MARK-SQL, Ирбис, доступ в Интернет;
- Microsoft Windows 7 Professional;
- Microsoft Office 2007 Professional Plus;
- Антивирусное программное обеспечение Kaspersky Endpoint Security.

3. Оснащенность: аппарат Xerox W.Centre 5230- 1 шт., сканер K.Filem - 1 шт., копировальный аппарат - 1 шт., кресло – 521AF-1 шт., монитор ЖК HP22 - 1 шт., монитор ЖК S.17 - 11 шт., принтер HP L/Jet - 1 шт., системный блок HP6000 Pro - 1 шт., системный блок Ramec S. E4300 – 10 шт., сканер Epson V350 - 5 шт., сканер Epson 3490 - 5 шт., стол 160×80×72 - 1 шт., стул 525 WFH030 - 12 шт., шкаф каталожный - 20 шт., стул «Кодоба» -22 шт., стол 80×55×72 - 10 шт.

4. Оснащенность: книжный шкаф 1000×3300×400-17 шт., стол, 400×180 Титаник «Pico» - 1 шт., стол письменный с тумбой – 37 шт., кресло «Cannes» черное - 42 шт., кресло (кремовое) – 37 шт., телевизор 3DTV Samsung UE85S9AT - 1 шт., Монитор Benq 24 - 18 шт., цифровой ИК-трансивер TAIDEN - 1 шт., пульт для презентаций R700-1 шт., моноблок Lenovo 20 HD - 19 шт., сканер Xerox 7600 - 4шт.

Перечень лицензионного программного обеспечения:

- Автоматизированная информационно-библиотечная система (АИБС);
- MARK-SQL, Ирбис, доступ в Интернет;
- Microsoft Windows 7 Professional;
- Microsoft Office 2007 Professional Plus;
- Антивирусное программное обеспечение Kaspersky Endpoint Security.

8.3. Помещения для хранения и профилактического обслуживания оборудования:

1. Центр новых информационных технологий и средств обучения:

Оснащенность: персональный компьютер – 2 шт. (доступ к сети «Интернет»), монитор – 4 шт., сетевой накопитель – 1 шт., источник бесперебойного питания – 2 шт., телевизор плазменный Panasonic – 1 шт., точка Wi-Fi – 1 шт., паяльная станция – 2 шт., дрель – 5 шт., перфоратор – 3 шт., набор инструмента – 4 шт., тестер компьютерной сети – 3 шт., баллон со сжатым газом – 1 шт., паста теплопроводная – 1 шт., пылесос – 1 шт., радиостанция – 2 шт., стол – 4 шт., тумба на колесиках – 1 шт., подставка на колесиках – 1 шт., шкаф – 5 шт., кресло – 2 шт., лестница Alve – 1 шт.

Перечень лицензионного программного обеспечения:

Microsoft Windows 7 Professional;

Microsoft Office 2010 Professional Plus;

Антивирусное программное обеспечение Kaspersky Endpoint Security.

2. Центр новых информационных технологий и средств обучения:

Оснащенность: стол – 5 шт., стул – 2 шт., кресло – 2 шт., шкаф – 2 шт., персональный компьютер – 2 шт. (доступ к сети «Интернет»), монитор – 2 шт., МФУ – 1 шт., тестер компьютерной сети – 1 шт., балон со сжатым газом – 1 шт., шуруповерт – 1 шт.

Перечень лицензионного программного обеспечения:

Microsoft Windows 7 Professional;

Microsoft Office 2007 Professional Plus;

Антивирусное программное обеспечение Kaspersky Endpoint Security.

3. Центр новых информационных технологий и средств обучения:

Оснащенность: стол – 2 шт., стуля – 4 шт., кресло – 1 шт., шкаф – 2 шт., персональный компьютер – 1 шт. (доступ к сети «Интернет»), веб-камера Logitech HD C510 – 1 шт., колонки Logitech – 1 шт., тестер компьютерной сети – 1 шт., дрель – 1 шт., телефон – 1 шт., набор ручных инструментов – 1 шт.

Перечень лицензионного программного обеспечения:

Microsoft Windows 7 Professional;

Microsoft Office 2007 Professional Plus;

Антивирусное программное обеспечение Kaspersky Endpoint Security.

8.4. Лицензионное программное обеспечение:

1. Microsoft Windows 7 Professional

2. Microsoft Office 2007 Professional Plus