

**ПЕРВОЕ ВЫСШЕЕ ТЕХНИЧЕСКОЕ УЧЕБНОЕ ЗАВЕДЕНИЕ РОССИИ**



**МИНИСТЕРСТВО НАУКИ И ВЫСШЕГО ОБРАЗОВАНИЯ  
РОССИЙСКОЙ ФЕДЕРАЦИИ**  
федеральное государственное бюджетное образовательное учреждение  
высшего образования  
**САНКТ-ПЕТЕРБУРГСКИЙ ГОРНЫЙ УНИВЕРСИТЕТ**

**УТВЕРЖДАЮ**

  
Руководитель ОПОП ВО  
Профессор М.Г. Мустафин

**МЕТОДИЧЕСКИЕ РЕКОМЕНДАЦИИ ДЛЯ САМОСТОЯТЕЛЬНОГО  
ИЗУЧЕНИЯ ДИСЦИПЛИНЫ  
МЕТОДЫ ОБРАБОТКИ ГЕОДЕЗИЧЕСКИХ ИЗМЕРЕНИЙ**

<b>Уровень высшего образования:</b>	Подготовка кадров высшей квалификации
<b>Направление подготовки:</b>	21.06.02 Геодезия
<b>Направленность (профиль):</b>	Геодезия
<b>Форма обучения:</b>	очная
<b>Нормативный срок обучения:</b>	3 года
<b>Составитель:</b>	к.т.н. доц. Зубов А.В.

Санкт-Петербург

## ВВЕДЕНИЕ

Измерения (обмеры) реальных объектов и последующая математическая обработка результатов этих измерений составляют один из основных видов работы инженера геодезиста. Обычно сами результаты измерений не используют, а подвергают математической обработке, которая заключается в получении значений величин, представляющих практическую или научную ценность.

Любое измерение, как бы тщательно оно не выполнялось, отягощено погрешностью, численно равной разности между результатом измерения и истинным значением измеряемой величины. Поскольку истинные значения, как правило, не известны, то приходится иметь дело с приближёнными значениями, которые при обработке рассматриваются как приближённые числа.

Производя измерения, всегда нужно быть уверенным в правильности полученных результатов. Грамотно проведенная обработка ни в коем случае не должна ухудшать результаты измерений, скорее наоборот, искусно выбранный метод обработки в большинстве случаев способствует ослаблению влияния погрешностей измерений на окончательные результаты.

Немаловажную роль для решения практических задач играет оценка качества произведенных измерений и полученных после обработки результатов. Приобретение теоретических знаний и практических навыков, необходимых для правильного решения перечисленных вопросов, является основной целью изучения настоящего курса.

Курс обеспечивает необходимыми знаниями изучение практически всего цикла специальных дисциплин специальности 21.05.01 «Прикладная геодезия», специализация «Инженерная геодезия», так как многие из них связаны с вычислениями. В данных методических указаниях для самостоятельной работы студента рассмотрен коррелятивный способ уравнивания.

### 1. КРАТКАЯ ТЕОРИЯ КОРРЕЛЯТИВНОГО СПОСОБА УРАВНИВАНИЯ ГЕОДЕЗИЧЕСКИХ СЕТЕЙ

При наличии избыточной информации возникает неоднозначность получения тех или иных элементов геодезической сети, кроме того, измерения искажены случайными, а возможно и систематическими и грубыми ошибками.

#### **Задачи уравнивания:**

- 1) уточнение результатов измерений;
- 2) устранение неоднозначности получения искомым величин;
- 3) оценка точности полученных результатов;
- 4) поиск грубых ошибок.

Под строгими способами уравнивания понимают результаты, полученные под условием  $[pvv] = \min$ . Если это условие не выполняется или выполняется частично (по частям), то такое уравнивание называют нестрогим (приближённым).

Среди строгих способов различают **коррелятивный** и **параметрический**, которые приводят к одним и тем же конечным результатам.

Коррелятивный способ заключается в том, что по количеству избыточных измерений  $r$  составляются условные уравнения, которые после уравнивания должны быть выполнены. Количество избыточных измерений равно

$$r = n - t,$$

где  $n$  – общее количество измерений (измеренных величин);  $t$  – необходимое количество измерений (количество неизвестных).

Примеры условных уравнений:

- в высотной сети сумма превышений замкнутого полигона должна равняться нулю

$$\sum_{i=1}^k h_i = 0 \quad (k - \text{количество превышений в полигоне});$$

- в сети триангуляции сумма углов в плоском треугольнике должна равняться  $180^\circ$

$$\sum_{i=1}^3 \beta_i - 180^\circ = 0.$$

При реализации коррелятного способа возникают две проблемы:

1. Условные уравнения (в общем виде) имеют нелинейный вид, а решить систему  $r$  нелинейных уравнений проблематично.

2. Количество условных уравнений равно  $r$ , а неизвестных -  $n$ , но всегда  $r < n$ .

**Первая проблема** чаще всего решается тем, что нелинейные уравнения приводят к линейному виду путём разложения в ряд Тейлора. Данный процесс называют **линеаризацией**.

**Вторую проблему** решают, совмещая условие метода наименьших квадратов (МНК)  $[pvv] = \min$  с системой уравнений поправок в функции условного экстремума Лагранжа.

Имеем функцию  $f(x_1 \dots x_n)$ , условный экстремум которой необходимо найти. Кроме того, есть дополнительные условия  $\varphi_i(x_1 \dots x_n) = 0$  при  $i=1 \dots r$  ( $r < n$ ). Т.е. дополнительных условий меньше чем неизвестных.

Функция вида  $L = f + \sum_{i=1}^r \lambda_i \cdot \varphi_i(x_1 \dots x_n)$  называют функцией Лагранжа с дополнительными множителями  $\lambda$ , называемыми **коррелатами**. Поиск экстремума данной функции приводит к системе  $(n+r)$  уравнений:

$$\frac{\partial L}{\partial x_1} = 0, \dots, \frac{\partial L}{\partial x_n} = 0, \dots, \frac{\partial L}{\partial \lambda_1} = 0, \dots, \frac{\partial L}{\partial \lambda_m} = 0.$$

Введём обозначения:

$M'_1, M'_2, \dots, M'_n$  – измеренные величины;

$v_1, v_2, \dots, v_n$  – поправки в измеренные величины;

$M_1, M_2, \dots, M_n$  – уравненные значения измерений, т.е.

$$M_1 = M'_1 + v_1, M_2 = M'_2 + v_2, \dots, M_n = M'_n + v_n.$$

Процесс коррелятного уравнивания выглядит следующим образом. Имеем **систему  $r$  условных уравнений** с  $n$  неизвестными

$$\begin{cases} f_1(M_1, M_2, \dots, M_n) = 0 \\ f_2(M_1, M_2, \dots, M_n) = 0 \\ \dots \\ f_r(M_1, M_2, \dots, M_n) = 0 \end{cases}.$$

Заменим в каждом из них уравненные значения на измеренные значения с поправками

$$\begin{cases} f_1(M'_1 + v_1, M'_2 + v_2, \dots, M'_n + v_n) = 0 \\ f_2(M'_1 + v_1, M'_2 + v_2, \dots, M'_n + v_n) = 0 \\ \dots \\ f_r(M'_1 + v_1, M'_2 + v_2, \dots, M'_n + v_n) = 0 \end{cases} .$$

Приведём каждое уравнение к линейному виду и перейдём к **системе условных уравнений поправок**

$$\begin{cases} \frac{\partial f_1}{\partial M_1} v_1 + \frac{\partial f_1}{\partial M_2} v_2 + \dots + \frac{\partial f_1}{\partial M_n} v_n + w_1 = 0 \\ \frac{\partial f_2}{\partial M_1} v_1 + \frac{\partial f_2}{\partial M_2} v_2 + \dots + \frac{\partial f_2}{\partial M_n} v_n + w_2 = 0 \\ \dots \\ \frac{\partial f_r}{\partial M_1} v_1 + \frac{\partial f_r}{\partial M_2} v_2 + \dots + \frac{\partial f_r}{\partial M_n} v_n + w_r = 0 \end{cases} ,$$

где  $w_1, w_2, \dots, w_r$  – свободные члены условных уравнений поправок (невязки), вычисляемые

$$\begin{cases} w_1 = f_1(M'_1, M'_2, \dots, M'_n) \\ w_2 = f_2(M'_1, M'_2, \dots, M'_n) \\ \dots \\ w_r = f_r(M'_1, M'_2, \dots, M'_n) \end{cases} .$$

Запишем систему условных уравнений поправок в матричном виде

$$BV + W = 0,$$

где  $B$  – матрица коэффициентов условных уравнений поправок (частных производных всех условий по всем измерениям) размерности  $r \times n$ ;

$V$  – вектор поправок в измерения размерности  $n \times 1$ ;

$W$  – вектор невязок размерности  $r \times 1$ .

Перейдём к системе нормальных уравнений коррелат

$$NK + W = 0,$$

где  $N = BGB^T$  – матрица коэффициентов нормальных уравнений размерности  $r \times r$ ;

$G$  – диагональная матрица обратных весов измерений размерности  $n \times n$ ;

$K$  – вектор коррелат размерности  $r \times 1$ .

Решим систему нормальных уравнений и найдём коррелаты

$$K = -N^{-1}W .$$

Найдём поправки в измеренные величины

$$V = GB^T K .$$

Контроль вычислений:  $-K^T W = V^T G^{-1} V$ .

Исправим измерения поправками  $M_i = M'_i + v_i$  и вычислим уравненных значений искомым величин (высот, координат).

Произведём оценку точности полученных результатов, вычислив апостериорную погрешность единицы веса

$$\mu = \sqrt{\frac{V^T G^{-1} V}{r}}.$$

Рассмотрим данный способ на примере уравнивания нескольких видов маркшейдерско-геодезических сетей.

## 2. УКАЗАНИЯ К ЛАБОРАТОРНЫМ РАБОТАМ

### 2.1. Лабораторная работа 1

#### Коррелятное уравнивание сети нивелирования IV класса

**Задание:** Уравнять коррелятным способом сеть нивелирования IV класса (рисунок 1). Вычислить уравненные высотные отметки, произвести обобщенную оценку точности полученных результатов.

Высотные отметки исходных реперов приведены в таблице 1. Измеренные превышения и длины ходов приведены в таблице 2.

Таблица 1 – Высотные отметки исходных реперов

Название репера	$H$ , м
101	25,923
102	37,514

Проанализируем нивелирную сеть, приведённую на рисунке 1.

1. Нивелирование IV класса характеризуется случайной погрешностью на 1 км нивелирного хода 10 мм.

2. В данной сети четыре избыточных измерений  $r = n - t = 8 - 4 = 4$ .

3. По числу избыточных измерений необходимо составить четыре условных уравнения поправок (для трёх замкнутых полигонов I – III и одного разомкнутого – IV).

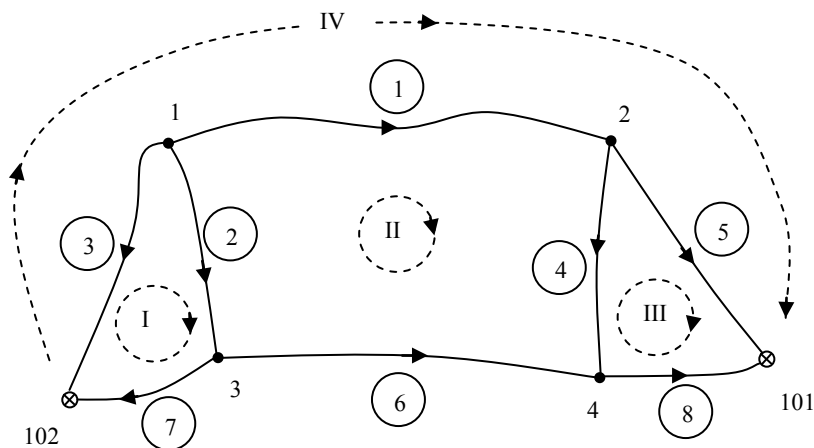


Рисунок 1 – Схема сети нивелирования IV класса

Таблица 2 –Измеренные превышения

Номер хода	$h$ , м	$L$ , км
1	+2,101	5,8
2	+13,271	5,4
3	+12,286	4,9
4	+12,323	5,3
5	-1,405	4,3
6	+1,066	3,7
7	-1,012	1,2
8	-13,667	1,4

Условные уравнения поправок будут иметь вид:

$$\begin{cases} v_2 - v_3 + v_7 + w_I = 0 \\ v_1 - v_2 + v_4 - v_6 + w_{II} = 0 \\ -v_4 + v_5 - v_8 + w_{III} = 0 \\ v_1 - v_3 + v_5 + w_{IV} = 0 \end{cases}$$

Производная (коэффициент) при поправке равняется:

- +1, если направление хода и полигона совпадают;
- -1, если направление хода и полигона не совпадают;
- 0, если в полигоне нет данного хода.

Вектор невязок вычисляется:

$$\begin{cases} w_I = h'_2 - h'_3 + h'_7 \\ w_{II} = h'_1 - h'_2 + h'_4 - h'_6 \\ w_{III} = -h'_4 + h'_5 - h'_8 \\ w_{IV} = h'_1 - h'_3 + h'_5 - H_{101} + H_{102} \end{cases}$$

Кроме коэффициентов условных уравнений поправок (частных производных) и невязок потребуются информация о точности того или иного хода (обратные веса). В качестве обратного веса  $g$  целесообразно принять длины ходов (км), т.е.  $g_i = L_i$  (таблица 2).

Выполним уравнивание данной сети в среде *MathCad*.

1. Введём исходные данные (высотные отметки, превышения, длины ходов) и априорную погрешность на 1 км хода.

$$H_{101}:=25.923 \quad H_{102}:=37.514$$

$$\begin{aligned} h_1:=2.101 \quad L_1:=5.8 \quad h_2:=13.271 \quad L_2:=5.4 \quad h_3:=12.286 \quad L_3:=4.9 \\ h_4:=12.323 \quad L_4:=5.3 \quad h_5:=-1.405 \quad L_5:=4.3 \quad h_6:=1.066 \quad L_6:=3.7 \\ h_7:=-1.012 \quad L_7:=1.2 \quad h_8:=-13.667 \quad L_8:=1.4 \end{aligned}$$

$$\mu_0 := 0.010 \quad r := 4$$

2. Введём матрицу коэффициентов условных уравнений поправок  $B$ , обратных весов  $G$  и вектор невязок  $W$ .

$$B := \begin{pmatrix} 0 & 1 & -1 & 0 & 0 & 0 & 1 & 0 \\ 1 & -1 & 0 & 1 & 0 & -1 & 0 & 0 \\ 0 & 0 & 0 & -1 & 1 & 0 & 0 & -1 \\ 1 & 0 & -1 & 0 & 1 & 0 & 0 & 0 \end{pmatrix}$$

$$W := \begin{pmatrix} h2 - h3 + h7 \\ h1 - h2 + h4 - h6 \\ -h4 + h5 - h8 \\ h1 - h3 + h5 - H101 + H102 \end{pmatrix}$$

$$G := (L1 \ L2 \ L3 \ L4 \ L5 \ L6 \ L7 \ L8) \quad G := \text{diag}(G^T)$$

3. Вычислим матрицу коэффициентов нормальных уравнений  $N$ , допустимые невязки и сравним их с фактическими невязками.

$$N := B \cdot G \cdot B^T$$

$$N = \begin{pmatrix} 11.5 & -5.4 & 0 & 4.9 \\ -5.4 & 20.2 & -5.3 & 5.8 \\ 0 & -5.3 & 11 & 4.3 \\ 4.9 & 5.8 & 4.3 & 15 \end{pmatrix}$$

Допустимые и фактические невязки

$$i := 1 \dots r$$

$$2 \cdot \mu_0 \cdot \sqrt{N_{i,i}} := \begin{pmatrix} 0.068 \\ 0.090 \\ 0.066 \\ 0.077 \end{pmatrix} \quad W = \begin{pmatrix} -0.027 \\ 0.087 \\ -0.061 \\ 0.001 \end{pmatrix}$$

Все невязки допустимы.

4. Найдём поправки и исправим ими измеренные значения превышений. Вычислим апостериорную погрешность на 1 км хода.

$$K := -N^{-1} \cdot W \quad V := G \cdot B^T \cdot K$$

$$V = \begin{bmatrix} -0.020 \\ 0.022 \\ -0.003 \\ -0.038 \\ 0.016 \\ 0.008 \\ 0.002 \\ -0.007 \end{bmatrix} \quad \begin{pmatrix} h1 \\ h2 \\ h3 \\ h4 \\ h5 \\ h6 \\ h7 \\ h8 \end{pmatrix} + V = \begin{pmatrix} 2.081 \\ 13.293 \\ 12.283 \\ 12.285 \\ -1.389 \\ 1.074 \\ -1.010 \\ -13.674 \end{pmatrix}$$

$$\mu := \sqrt{\frac{V^T \cdot G^{-1} \cdot V}{r}} \quad \mu = 0.012$$

Так как  $\mu$  превышает  $\mu_0$ , можно сделать вывод о том, что точность данной сети несколько ниже IV класса нивелирования.

5. Вычислим высотные отметки сети через уравненные превышения (табл. 3) ходом, приведённым на рис. 2.

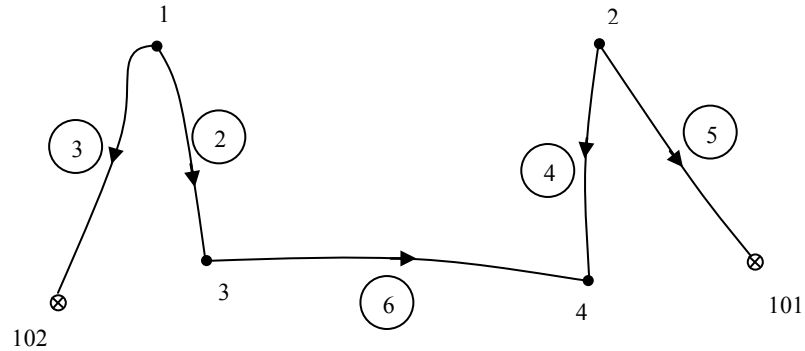


Рисунок 2 – Схема вычисления высотных отметок

Таблица 3 – Уравненные высотные отметки

Точка (репер)	Превышение	Отметка
102		37,514
	-12,283	
1		25,231
	+13,293	
3		38,524
	+1,074	
4		39,598
	-12,285	
2		27,313
	-1,389	
101		25,924

## 2.2. Лабораторная работа 2

### Коррелятное уравнение геодезического четырёхугольника

**Задание:** Уравнять коррелятным способом геодезический четырёхугольник, приведённый на рисунке 3. Вычислить уравненные координаты точек II и III, произвести обобщённую оценку точности полученных результатов. Средняя квадратическая погрешность (СКП) измерения углов в данной сети принята  $m_\beta = 5''$ , СКП измерения базиса –  $m_B = 15$  мм.



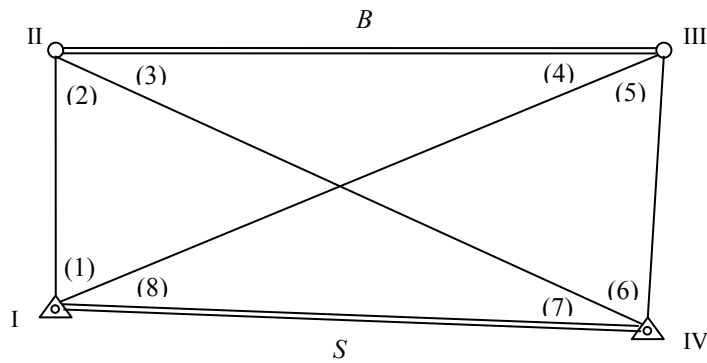


Рисунок 3 – Схема геодезического четырёхугольника

В таблице 4 приведены координаты исходных пунктов, а в таблице 5 – результаты измерений.

Таблица 4 – Координаты исходных пунктов

Пункт	$X, м$	$Y, м$
I	6243,765	5235,284
IV	6153,722	6177,539

Таблица 5 – Измеренные и уравненные величины

№ п/п	Измеренные углы, сторона	Поправка*	Уравненные углы, сторона
1	60°08'10,7"	+6,2"	60°08'16,9"
2	55 20 01,2	+0,2	55 20 01,4
3	33 39 27,1	+9,3	33 39 36,4
4	30 52 03,8	+1,5	30 52 05,3
5	59 34 30,1	-5,6	59 34 24,5
6	55 53 59,1	-5,4	55 53 53,7
7	29 11 15,4	-3,0	29 11 12,4
8	35 20 40,7	-11,4	35 20 29,3
B	948,635	-10 мм	948,625

\* *Примечание:* поправки и уравненные значения вписаны в таблицу 5 после уравнивания.

Проанализируем данную сеть, приведённую на рисунке 3.

1. В данной сети пять избыточных измерений  $r = n - t = 9 - 4 = 5$ .
2. По числу избыточных измерений необходимо составить пять условных уравнения поправок (три условия фигур и по одному полюса и базиса).

**Условие фигур** – сумма внутренних углов плоского многоугольника должно равняться  $180^\circ(n - 2)$ . В данной сети столько условий фигур, сколько независимых треугольников.

**Условие полюса** заключается в вычислении одной и той же стороны вокруг какого-либо полюса (например, пересечение диагоналей) через углы треугольников по теореме синусов.

**Условие базиса** заключается в вычислении одной стороны (измеренной или исходной) от другой стороны через углы треугольников по теореме синусов.

### Последовательность выполнения уравнивания:

1. Найдём расстояние  $S_{I-IV}$  между исходными пунктами. Оно потребуется в базисном условии.

$$S = \sqrt{(X_{IV} - X_I)^2 + (Y_{IV} - Y_I)^2} = 946,548 \text{ м.}$$

2. Составим условия фигур и найдём невязки.

$$\begin{aligned} (1) + (2) + (3) + (4) - 180 &= 0; & w_I &= -17,2''; \\ (3) + (4) + (5) + (6) - 180 &= 0; & w_{II} &= +0,1''; \\ (5) + (6) + (7) + (8) - 180 &= 0; & w_{III} &= +25,3''. \end{aligned}$$

Условные уравнения поправок (фигур) будут иметь вид:

$$\begin{cases} v_1 + v_2 + v_3 + v_4 + w_I = 0 \\ v_3 + v_4 + v_5 + v_6 + w_{II} = 0 \\ v_5 + v_6 + v_7 + v_8 + w_{III} = 0 \end{cases}$$

3. Составим полюсное условие и найдём невязку (таблица 6).

$$\frac{\sin(1) \cdot \sin(3) \cdot \sin(5) \cdot \sin(7)}{\sin(2) \cdot \sin(4) \cdot \sin(6) \cdot \sin(8)} - 1 = 0$$

Таблица 6 – Коэффициенты и свободный член полюсного условия

Числитель			Знаменатель		
угол	sin	ctg	угол	sin	ctg
1	0,8672124	0,574	2	0,8224784	0,692
3	0,5542276	1,502	4	0,5130578	1,673
5	0,8622930	0,587	6	0,8280579	0,677
7	0,4876709	1,790	8	0,5784933	1,410
Π	0,2021135		Π	0,2021389	

$$w_{IV} = [(0,2021135 \div 0,2021389) - 1] \times 206265 = -25,9''.$$

После приведения полюсного условия к линейному виду уравнение поправок будет иметь вид:

$$\begin{aligned} \text{ctg}(1) \cdot v_1 - \text{ctg}(2) \cdot v_2 + \text{ctg}(3) \cdot v_3 - \text{ctg}(4) \cdot v_4 + \text{ctg}(5) \cdot v_5 - \\ - \text{ctg}(6) \cdot v_6 + \text{ctg}(7) \cdot v_7 - \text{ctg}(8) \cdot v_8 + w_{IV} = 0 \end{aligned}$$

4. Составим базисное условие и найдём невязку (таблица 7).

$$\frac{S \cdot \sin(1) \cdot \sin(7)}{B \cdot \sin(2) \cdot \sin(4)} - 1 = 0$$

После приведения базисного условия к линейному виду уравнение поправок будет иметь вид:

$$ctg(1) \cdot v_1 - ctg(2) \cdot v_2 - ctg(4) \cdot v_4 + ctg(7) \cdot v_7 - \frac{\rho''}{B_{(мм)}} \cdot v_B + w_V = 0$$

Таблица 7 – Коэффициенты и свободный член базисного условия

Числитель			Знаменатель		
угол	sin	ctg	угол	sin	ctg
1	0,8672124	0,574	2	0,8224784	0,692
7	0,4876709	1,790	4	0,5130578	1,673
<i>s</i>	946,548	—	<i>B</i>	948,635	0,217
Π	400,3087		Π	400,3040	

$$w_V = [(400,3087 \div 400,3040) - 1] \times 206265 = +2,4''.$$

5. Составим и введём в *MathCade* матрицу коэффициентов условных уравнений поправок *B*, обратных весов *G* и вектор невязок *W*. При вычислении обратных весов примем СКП единицы веса  $\mu_o = m_\beta = 5''$ .

$$B := \begin{pmatrix} 1 & 1 & 1 & 1 & 0 & 0 & 0 & 0 & 0 \\ 0 & 0 & 1 & 1 & 1 & 1 & 0 & 0 & 0 \\ 0 & 0 & 0 & 0 & 1 & 1 & 1 & 1 & 0 \\ 0.574 & -0.692 & 1.502 & -1.673 & 0.587 & -0.677 & 1.790 & -1.410 & 0 \\ 0.574 & -0.692 & 0 & -1.673 & 0 & 0 & 1.790 & 0 & -0.217 \end{pmatrix}$$

$$r := 5 \quad \mu_o := 5 \quad G := \begin{pmatrix} 1 & 1 & 1 & 1 & 1 & 1 & 1 & 1 & \frac{15^2}{\mu_o^2} \end{pmatrix} \quad G := \text{diag}(G^T)$$

$$W := (-17.2 \quad 0.1 \quad 25.3 \quad -25.9 \quad 2.4)$$

6. Вычислим матрицу коэффициентов нормальных уравнений *N*, допустимые невязки и сравним их с фактическими невязками.

$$N := B \cdot G \cdot B^T$$

$$N = \begin{pmatrix} 4 & 2 & 0 & -0.289 & -1.791 \\ 2 & 4 & 2 & -0.261 & -1.673 \\ 0 & 2 & 4 & 0.290 & 1.790 \\ -0.289 & -0.261 & 0.290 & 11.858 & 6.811 \\ -1.791 & -1.673 & 1.790 & 6.811 & 7.235 \end{pmatrix}$$

Допустимые и фактические невязки:

$$i := 1 \dots r$$

$$2 \cdot \mu_o \cdot \sqrt{N_{i,i}} := \begin{pmatrix} 20 \\ 20 \\ 20 \\ 34.4 \\ 26.9 \end{pmatrix} \quad W = (-17.2 \quad 0.1 \quad 25.3 \quad -25.9 \quad 2.4)$$

Невязка третьего условного уравнения (фигур) вне допуска (25,3>20).

7. Найдём поправки, вычислим апостериорную СКП единицы веса.

$$K := -N^{-1} \cdot W^T \quad V := G \cdot B^T \cdot K$$

$$V^T = (6.2 \quad 0.2 \quad 9.3 \quad 1.5 \quad -5.6 \quad -5.4 \quad -3.0 \quad -11.4 \quad -9.6)$$

$$\mu := \sqrt{\frac{V^T \cdot G^{-1} \cdot V}{r}} \quad \mu = 8.2$$

Так как  $\mu$  превышает  $\mu_0$  (8,2>5), можно сделать вывод о том, что точность данной сети несколько ниже предполагаемой.

Исправим поправками измеренные значения углов и базиса (таблица 5). Первые восемь поправок выражены в угловых секундах, а девятая – в мм.

8. Вычислим координаты точек II и III, решив прямые угловые засечки по формулам Юнга через уравненные внутренние углы (таблица 5, последняя колонка).

При определении координат точки II следует в качестве  $\beta_1$  взять сумму углов (1)+(8), а  $\beta_2$  – угол (7).

При определении координат точки III следует в качестве  $\beta_1$  взять угол (8), а  $\beta_2$  – сумму углов (6)+(7).

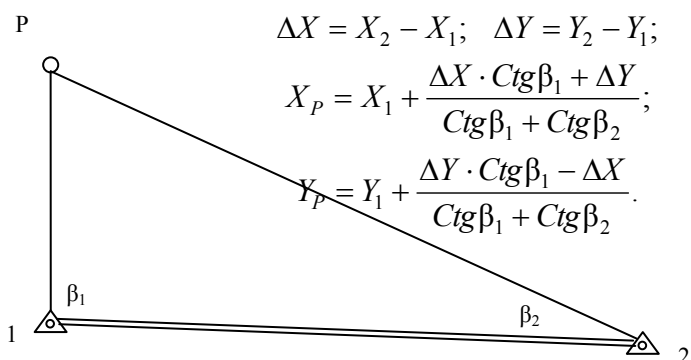


Рисунок 4 – Общая схема и формулы прямой угловой засечки

Ответы (уравненные координаты):

$$X_{II} = 6804,985 \quad Y_{II} = 5235,080$$

$$X_{III} = 6788,672 \quad Y_{III} = 6183,564$$

9. В качестве контроля найдём по полученным координатам базис  $B_{II-III}$  и сравним его с уравненным значением (таблица 5).

$$B = \sqrt{(X_{III} - X_{II})^2 + (Y_{III} - Y_{II})^2} = 948,624 \text{ м (в таблице 5 – 948,625)}.$$

## 2.3. Лабораторная работа 3

### Коррелятное уравнивание хода полигонометрии с гиростороной

**Задание:** Уравнять коррелятным способом ход полигонометрии с гиростороной  $\alpha_{гир}$  (рисунок 5). Вычислить уравненные координаты, произвести обобщенную оценку точности полученных результатов.

Гиросторона  $\alpha_{гир} = 181^{\circ}22' 39,2''$ ; её точность  $m_{\alpha} = 20''$ ; СКП измерения углов  $m_{\beta} = 5''$ ; СКП измерения сторон определяется метрологической формулой  $m_s = 10 \text{ мм} + 5 \text{ мм/км}$ .

Исходные данные приведены в таблице 8.

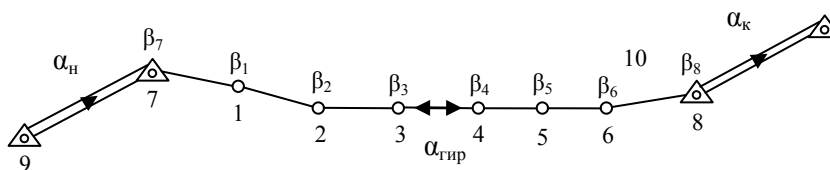


Рисунок 5 – Схема хода полигонометрии с гиростороной

Проанализируем данную сеть, приведённую на рисунке 5.

1. В сети измерено восемь углов, семь сторон и одна гиросторона, следовательно, измерено шестнадцать элементов  $n = 16$ .

2. Необходимо найти координаты шести точек, следовательно, количество неизвестных (необходимых измерений)  $t = 12$ .

3. По числу избыточных измерений  $r = n - t = 16 - 12 = 4$  необходимо составить четыре условных уравнения поправок (два дирекционных углов и два координат).

**Условие жёсткого угла (дирекционного угла)** состоит в том, что один дирекционный угол (измеренный или исходный) может быть вычислен от другого через связывающие их углы.

**Условие координат** состоит в том, что координаты одной точки (исходной или измеренной, например, спутниковой системой) могут быть вычислены от другой точки через углы, стороны, приращения координат.

Таблица 8 – Исходные данные и результаты измерений

Точка	Измеренный угол $\beta$	Измеренная сторона $s, \text{м}$	$X, \text{м}$	$Y, \text{м}$
9			10084,517	10073,937
7	$151^{\circ}54' 25,3''$		8508,157	9289,822
		753,572		
1	$155^{\circ}02' 21,5''$			
		588,124		
2	$199^{\circ}36' 51,7''$			
		586,580		
3	$188^{\circ}21' 46,0''$			
		742,710		
4	$202^{\circ}50' 38,8''$			
		248,085		
5	$174^{\circ}05' 47,0''$			
		696,061		

6	167 04 11,5			
		516,500		
8	158 10 55,0		4503,071	9259,614
10			3031,766	9693,614

Условимся нумеровать углы по номерам точек, а стороны – в порядке появления их в ходе!!!

Для данной сети можно составить четыре следующих условия (функции):

$$\left\{ \begin{array}{l} \beta_7 + \beta_1 + \beta_2 + \beta_3 - \alpha_{\text{тип}} + \alpha_{\text{Н}} - n' \cdot 180^\circ = 0 \\ \beta_7 + \beta_1 + \beta_2 + \beta_3 + \beta_4 + \beta_5 + \beta_6 + \beta_8 - \alpha_{\text{К}} + \alpha_{\text{Н}} - n'' \cdot 180^\circ = 0 \\ \sum_1^7 \Delta X - X_8 + X_7 = 0 \\ \sum_1^7 \Delta Y - Y_8 + Y_7 = 0 \end{array} \right. = \left\{ \begin{array}{l} f_I = 0 \\ f_{II} = 0 \\ f_{III} = 0 \\ f_{IV} = 0 \end{array} \right.$$

В приведённых условиях  $n'$  и  $n''$  целые числа, близкие к количеству углов в соответствующем уравнении.

При приведении условий к линейному виду необходимо взять частные производные от четырёх функций  $f$  по всем шестнадцати измерениям.

$$\frac{\partial f_I}{\partial \beta_i} = +1; \quad \frac{\partial f_I}{\partial \alpha_{\text{тип}}} = -1; \quad \frac{\partial f_{II}}{\partial \beta_i} = +1;$$

$$\frac{\partial f_{III}}{\partial \beta_i} = \frac{Y_i - Y_8}{\rho''}; \quad \frac{\partial f_{III}}{\partial S_j} = \cos \alpha_j; \quad \frac{\partial f_{IV}}{\partial \beta_i} = \frac{X_8 - X_i}{\rho''}; \quad \frac{\partial f_{IV}}{\partial S_j} = \sin \alpha_j.$$

Условимся, что угловые величины (угловые невязки, СКП углов и гиростороны, поправки) будут выражены в угловых секундах, а линейные (невязки по осям координат, СКП расстояний, координаты, поправки) – в сантиметрах!!!

### Последовательность выполнения уравнивания:

1. Решим две обратные геодезические задачи и найдём начальный  $\alpha_{\text{Н}}$  и конечный  $\alpha_{\text{К}}$  дирекционные углы. Координаты исходных пунктов приведены в табл. 8.

$$\alpha_{\text{Н}} = 206^\circ 26' 48,2''; \quad \alpha_{\text{К}} = 163^\circ 33' 54,7''.$$

2. Вычислим всячий (без распределения невязок) ход полигонометрии (вычисление хода в данных указаниях не приведено). Данные из хода потребуются для получения всех невязок и численных значений коэффициентов координатных условных уравнений поправок.

$$w_I = \alpha_{3-4}^{\text{выч}} - \alpha_{\text{тип}} = -26,5''; \quad w_{II} = \alpha_{8-10}^{\text{выч}} - \alpha_{\text{К}} = -9,7'';$$

$$w_{III} = X_8^{\text{выч}} - X_8 = -3,1 \text{ см}; \quad w_{IV} = Y_8^{\text{выч}} - Y_8 = +4,3 \text{ см}.$$

3. Найдём коэффициенты условных уравнений поправок. Элементы матрица  $B^T$  приведены в таблице 9.

Таблица 9 – Коэффициенты условных уравнений поправок (матрица  $B^T$ )

Измерение	Коэффициенты (частные производные)			
	$f_I$	$f_{II}$	$f_{III}$	$f_{IV}$
$\alpha_{гир}$	-1	0	0	0
$\beta_1$	+1	+1	+0.025	-1.577
$\beta_2$	+1	+1	+0.153	-1.322
$\beta_3$	+1	+1	+0.187	-1.039
$\beta_4$	0	+1	+0.179	-0.679
$\beta_5$	0	+1	+0.130	-0.570
$\beta_6$	0	+1	+0.024	-0.249
$\beta_7$	+1	+1	+0.015	-1.942
$\beta_8$	0	+1	0	0
$S_1$	0	0	-1.000	+0.029
$S_2$	0	0	-0.894	+0.448
$S_3$	0	0	-0.993	+0.122
$S_4$	0	0	-1.000	-0.024
$S_5$	0	0	-0.912	-0.410
$S_6$	0	0	-0.949	-0.314
$S_7$	0	0	-0.996	-0.094

4. В качестве априорной СКП единицы веса примем СКП измерения углов  $\mu_o = m_\beta$ , тогда обратные веса измеренных углов  $\beta$  будут равны единице  $g_\beta = 1$ , гиристороны  $\alpha_{гир}$  –  $g_\alpha = m_\alpha^2 / m_\beta^2 = 16$  и длин линий  $S$  –  $g_s = m_s^2 / m_\beta^2$ .

Рассмотрим пример вычисления обратного веса первой измеренной стороны  $S_1 = 753,572$  (см. таблицу 8).

$$g_s = m_s^2 / m_\beta^2 = (1 \text{ см} + 0,5 \text{ см/км} \times 0,75 \text{ км})^2 / 5^2 = 0,076.$$

Таким образом, имеем вектор обратных весов  $G$ :

$$G := (16 \ 1 \ 1 \ 1 \ 1 \ 1 \ 1 \ 1 \ 1 \ 1 \ 0,076 \ 0,067 \ 0,067 \ 0,075 \ 0,051 \ 0,073 \ 0,063)$$

5. Продолжим уравнивание данной сети в среде *MathCad*, предварительно введя матрицы  $W$ ,  $B$  и  $G$ .

$$r := 4 \quad \mu_o := 5 \quad G := \text{diag}(G^T) \quad N := B \cdot G \cdot B^T$$

$$N = \begin{pmatrix} 20 & 4 & 0.380 & -5.880 \\ 4 & 8 & 0.713 & -7.378 \\ 0.380 & 0.713 & 0.550 & -0.655 \\ -5.880 & -7.378 & -0.655 & 9.964 \end{pmatrix}$$

Допустимые и фактические невязки:

$$i := 1 \dots r$$

$$2 \cdot \mu_o \cdot \sqrt{N_{i,i}} := \begin{pmatrix} 44.7 \\ 28.3 \\ 7.4 \\ 31.6 \end{pmatrix} \quad W := (-26.5 \ -9.7 \ -3.1 \ 4.3)$$

Все невязка допустимы.

$$K := -N^{-1} \cdot W^T \quad V := G \cdot B^T \cdot K$$

$$V^T = \begin{pmatrix} -24.0 & 0 & 1.2 & 2.1 & 1.5 & 1.5 & 1.9 & -0.9 & 2.4 & \dots \\ \dots & -0.3 & -0.2 & -0.3 & -0.3 & -0.3 & -0.4 & -0.3 \end{pmatrix}$$

Заметим, что первые девять поправок выражены в угловых секундах, а оставшиеся семь – в сантиметрах.

$$\mu := \sqrt{\frac{V^T \cdot G^{-1} \cdot V}{r}} \quad \mu = 4.1$$

Так как  $\mu$  не превышает  $\mu_0$  ( $4.1 < 5$ ), можно сделать вывод о том, что точность данной сети соответствует предполагаемой.

Исправим поправками измеренные значения углов и сторон (таблица 8) и вычислим ход через урвненные значения.

Частичным контролем правильности уравнивания может служить отсутствие невязок условных уравнений.

### РЕКОМЕНДУЕМЫЙ БИБЛИОГРАФИЧЕСКИЙ СПИСОК

1. *Беляев Б.И.* Теория погрешностей и способ наименьших квадратов: Учеб. для вузов. / Б.И. Беляев, М.Н. Тевзадзе – М.: Недра, 1992.- 286 с.
2. *Хлебников А.В.* Математическая обработка маркшейдерско – геодезических измерений: Учеб. для вузов. / А.В. Хлебников, В.М. Гудков – М.: Недра, 1990. – 335 с.
3. *Герасименко М.Д.* Современный метод наименьших квадратов с геодезическими приложениями. Владивосток: Дальнаука, 1998. 101 с.
4. *Гордеев В.А.* Основы теории ошибок измерений: Учебное пособие. – Екатеринбург: Изд. Уральской государственной горно – геологической академии.– 2000.–182 с.

### СОДЕРЖАНИЕ

Введение.....	2
1. Краткая теория коррелятного способа уравнивание геодезических сетей	2
2. Указания к лабораторным работам .....	5
2.1. Лабораторная работа 1	
Коррелятное уравнивание сети нивелирования IV класса .....	5
2.2. Лабораторная работа 2	
Коррелятное уравнивание геодезического четырёхугольника .....	8
2.3. Лабораторная работа 3	
Коррелятное уравнивание хода полигонометрии с гиростороной .....	13
Рекомендуемый библиографический список .....	16